

سلطنة عمان

وزارة التربية والتعليم

المديرية العامة للتربية والتعليم بمحافظة الداخلية

الامتحان التجريبي لدبلوم التعليم العام

العام الدراسي ٢٠١٧/٢٠١٨

الفصل الدراسي الثاني لمادة : العالم من حولي

- زمن الاجابة : ثلاث ساعات
- عدد صفحات أسئلة الامتحان : ٣١ صفحة
- الاجابة في الورقة نفسها

أجب عن جميع الأسئلة التالية

السؤال الأول: ضع دائرة حول رمز الإجابة الصحيحة لكل مفردة من المفردات التالية:

١- الجهة التي تشرف على كرسي السلطان قابوس لتقنية المعلومات:

أ- مكتب مستشار جلالة السلطان للاتصالات الخارجية

ب- جامعة السلطان قابوس

ج- مكتب مستشار جلالة السلطان للشؤون الثقافية

د- وزارة التعليم العالي

٢- التصنيف الصحيح للأفلاج العمانية المدرجة في قائمة التراث العالمي:

الإفلاج الداوودية	الإفلاج العينية
دارس	الجبلة
الخطمين	الميسر
الملكي	

ب-

الإفلاج الداوودية	الإفلاج العينية
دارس	الجبلة
الميسر	الملكي
الخطمين	

أ-

الإفلاج الداوودية	الإفلاج العينية
الملكي	الجبلة
الميسر	
دارس	
الخطمين	

د-

الإفلاج الداوودية	الإفلاج العينية
الميسر	الملكي
دارس	
الخطمين	

ج-

٣- هيئة حكومية دولية معنية بتغير المناخ تأسست عام ١٩٨٨ م:

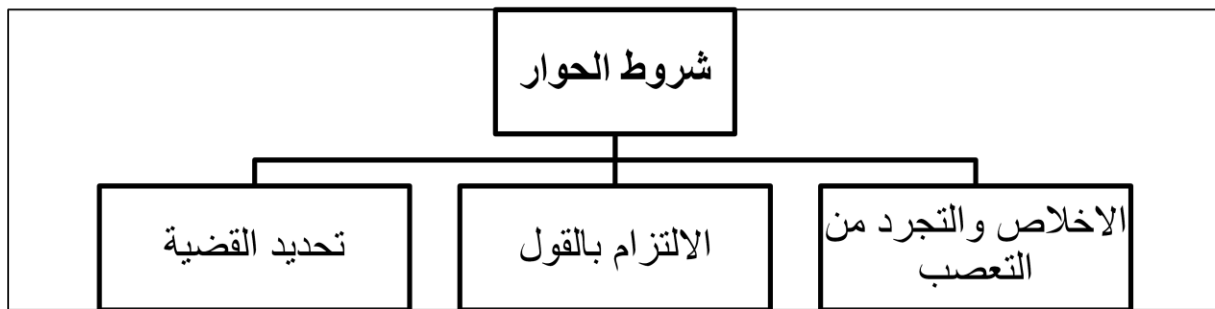
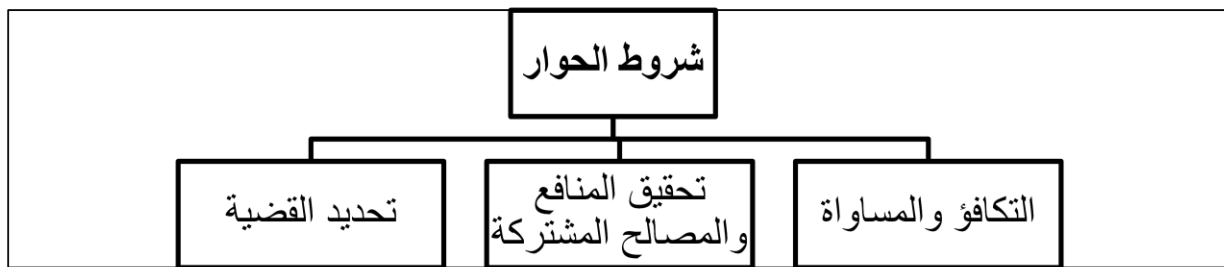
أ- IPCC

ب- UNDP

ج- WMO

د- MCD

٤- الخريطة المفاهيمية الصحيحة التي توضح شروط الحوار :



٥- المرتبة التي احتلتها سلطنة عمان حسب مؤشر السلام العالمي :

أ- ٢١

ب- ٢٢

ت- ٢٣

ث- ٢٤

٦- الصور التي تشير الى الترتيب الصحيح لادارج المواقع في قائمة التراث العالمي:



أ-



ب-



ج-



د-

٧- القرن الميلادي الذي اخترعت فيه آلة الطباعة على يد الألماني غوتنبرج:

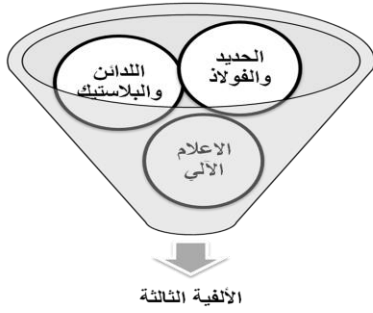
أ- ١٣

ب- ١٤

ج- ١٥

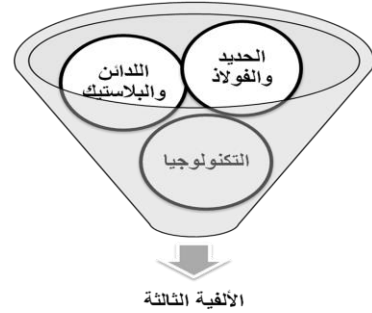
د- ١٦

٨- الشكل الصحيح الذي يمثل خصائص الألفية الثالثة :



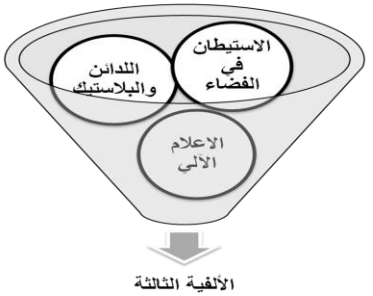
ب-

الألفية الثالثة



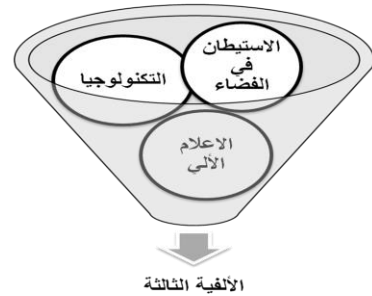
أ-

الألفية الثالثة



د-

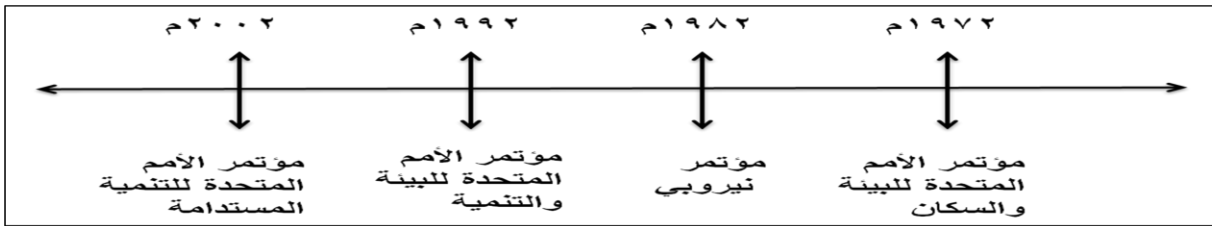
الألفية الثالثة



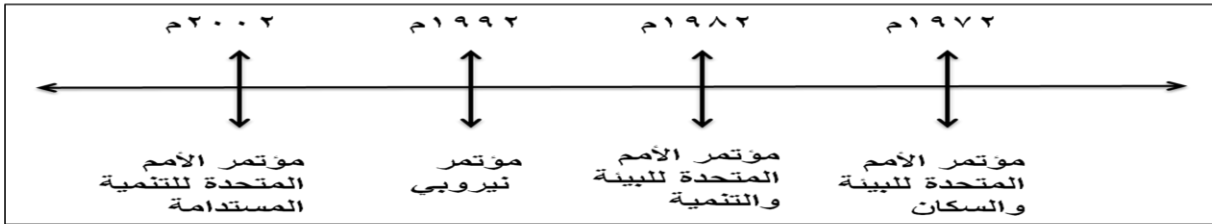
ج-

الألفية الثالثة

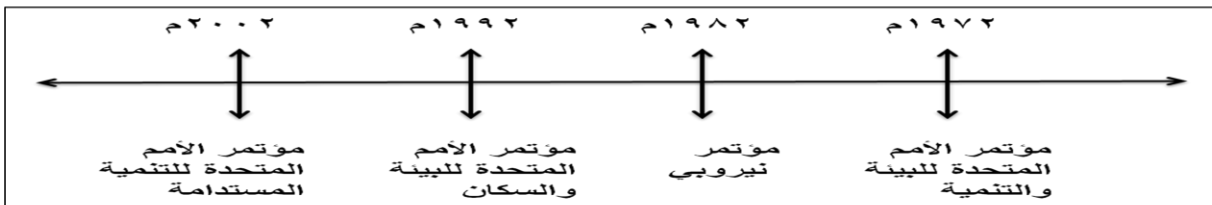
٩-- الخط الزمني الصحيح لانعقاد مؤتمرات قمة الأرض :



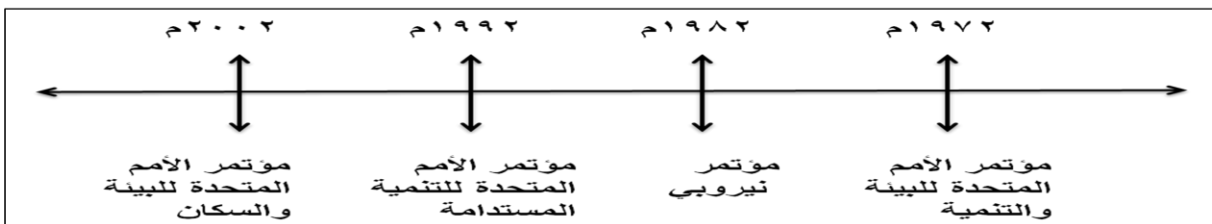
أ-



ب-

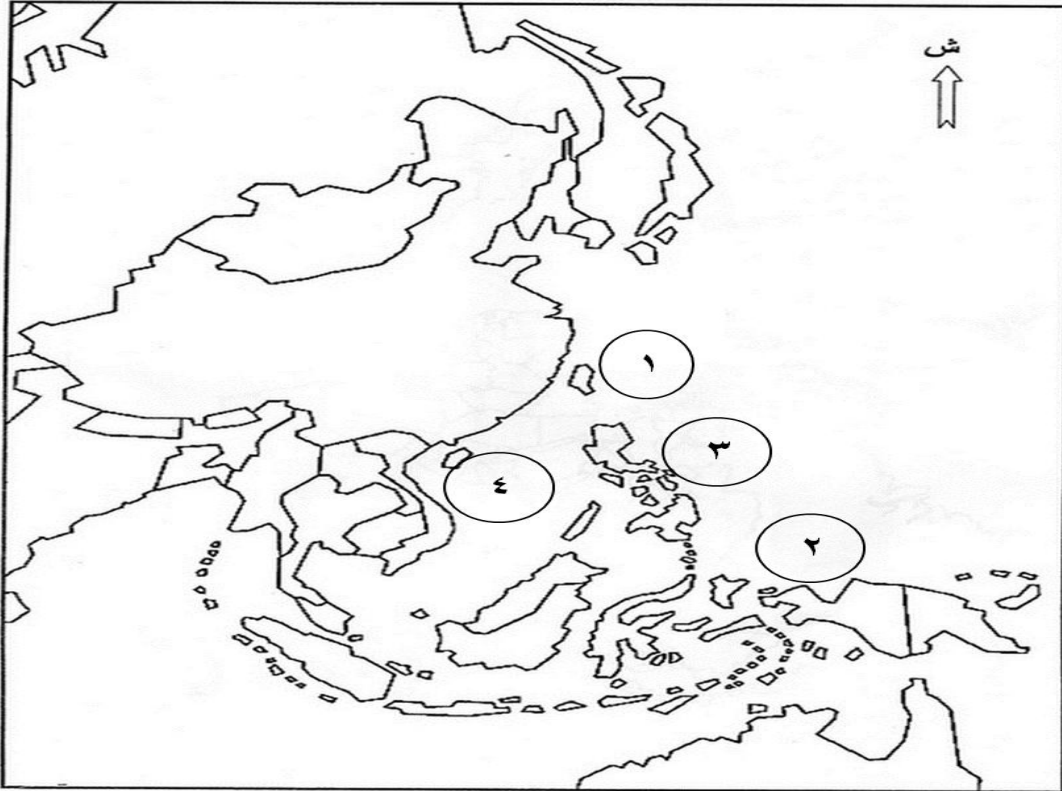


ج-



د-

١٠- الرقم الصحيح الذي يشير الى الجزيرة التي تعرضت لمشكلة التلوث المائي عام ٢٠٠٥ م:



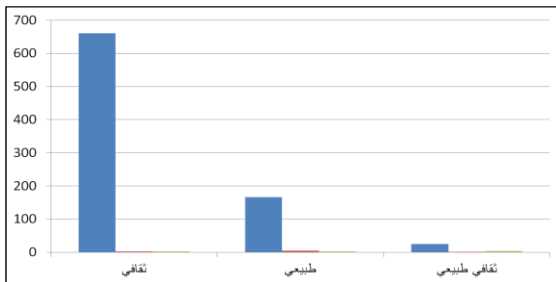
١-أ

٢-ب

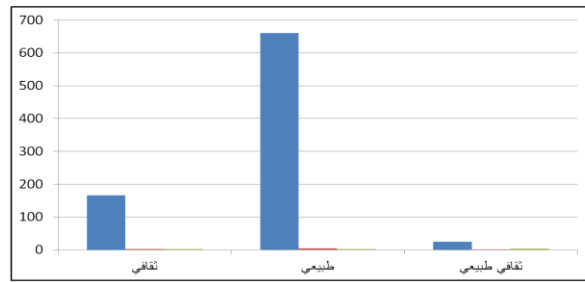
٣-ج

٤-د

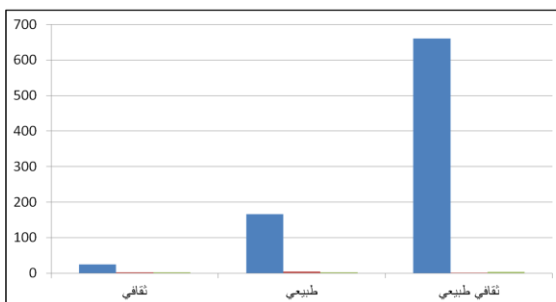
١١- الشكل البياني الصحيح الذي يمثل عدد المواقع العالمية المدرجة في قائمة التراث العالمي حتى عام ٢٠٠٧ م:



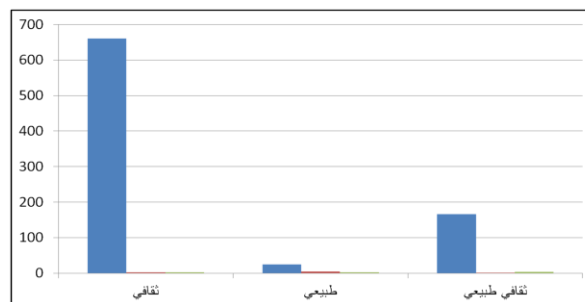
ب-



أ-



د-



ج-

١٢- الرمز الذي يشير الى الدولة التي يوجد بها كرسي السلطان قابوس للدراسات العربية والذي أنشئ عام ٢٠٠٧م :



أ- م

ب- س

ج- ل

د- ع

١٣- العام الذي عقد فيه مؤتمر الحوار في الدولة المشار اليها بالرمز (▲) في الخريطة السابقة :

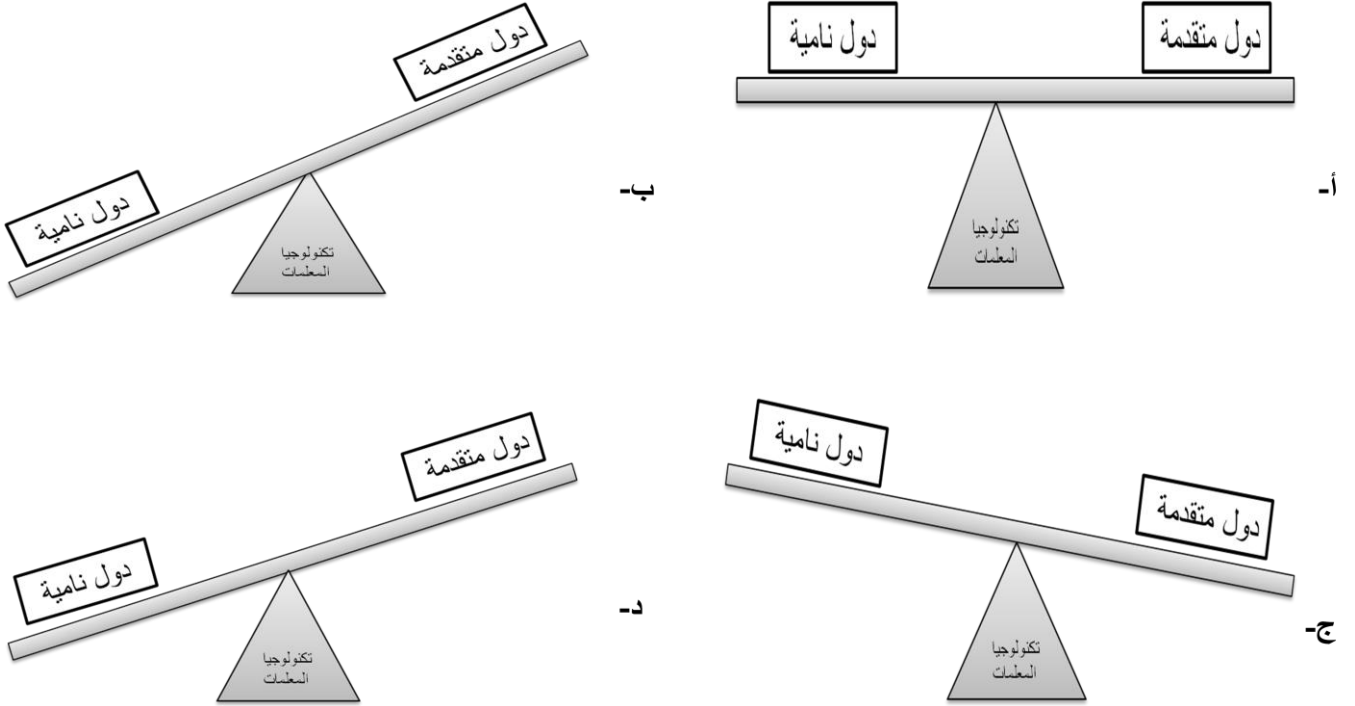
أ- ٢٠٠٠

ب- ٢٠٠١

ج- ٢٠٠٤

د- ٢٠٠٦

١٤- الشكل الصحيح الذي يمثل مفهوم الفجوة الرقمية :



السؤال الثاني : أجب عن الاسئلة التالية :

١٥- اذكر اثنين من كل مما يأتي:

أ- الأحكام التي يجب التقيد بها لحماية الممتلكات الثقافية في حالة حوث نزاع مسلح

١-.....

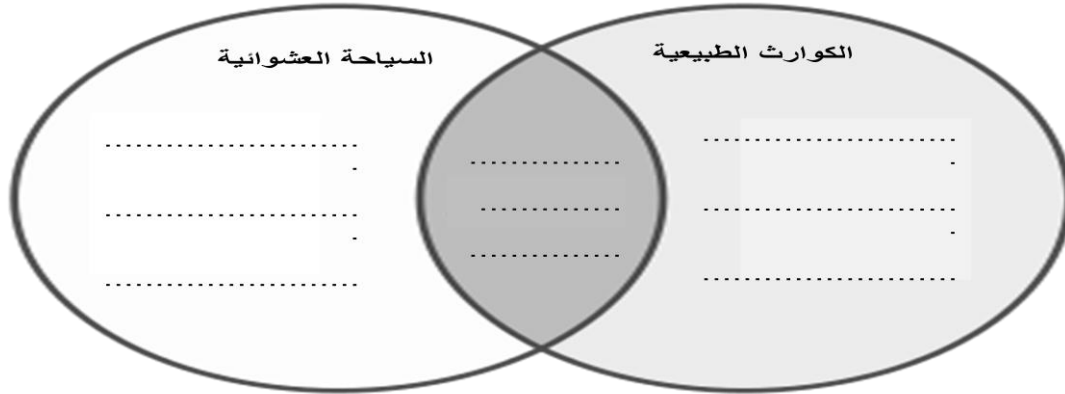
٢-.....

ب- أهداف مجتمع المعلومات والمعرفة في المجال الاقتصادي

١-.....

٢-.....

١٦- صنف المواقع الأثرية التالية التي تعرضت لها حسب مخطط فن (مانشوبيتشو – نجورونجور- البتراء)



١٧- ادرس الخريطة التالية جيدا ثم أجب عن الأسئلة التي تليها :



أ- وقع الدولة التي عقد فيها مؤتمر السكان والتنمية عام ١٩٩٤م

ب- استخرج من الخريطة الرمز الدال على :

١- الدولة التي عقد فيها بروتوكول كيوتو

٢- الدولة التي بنيت فيها قبة الألفية

٣- توقع ماذا سيحدث للمنطقة المحاطة بالدائرة في الخريطة في حالة تزايد ظاهرة الاحتباس الحراري؟

١٨- برهن على صحة العبارات التالية :

أ- الحوار ليس بالكلمة الجديدة أو الدخيلة على مجتمعنا

ب- وجود خاصية التفاعل الحضاري في الحضارات الاسلامية

السؤال الثالث:

١٩- قارن بين مؤتمرات حوار الحضارات حسب بيانات الجدول التالي :

المقارنة	المؤتمر الدولي لحوار الحضارات	ندوة الحضارات والثقافات الانسانية من الحوار الى التحالف
الفترة الزمنية التي عقد فيها	١-.....	٢-.....
المكان	ليتوانيا	٣-.....
المنظمة	اليونسكو	الاييسيسكو

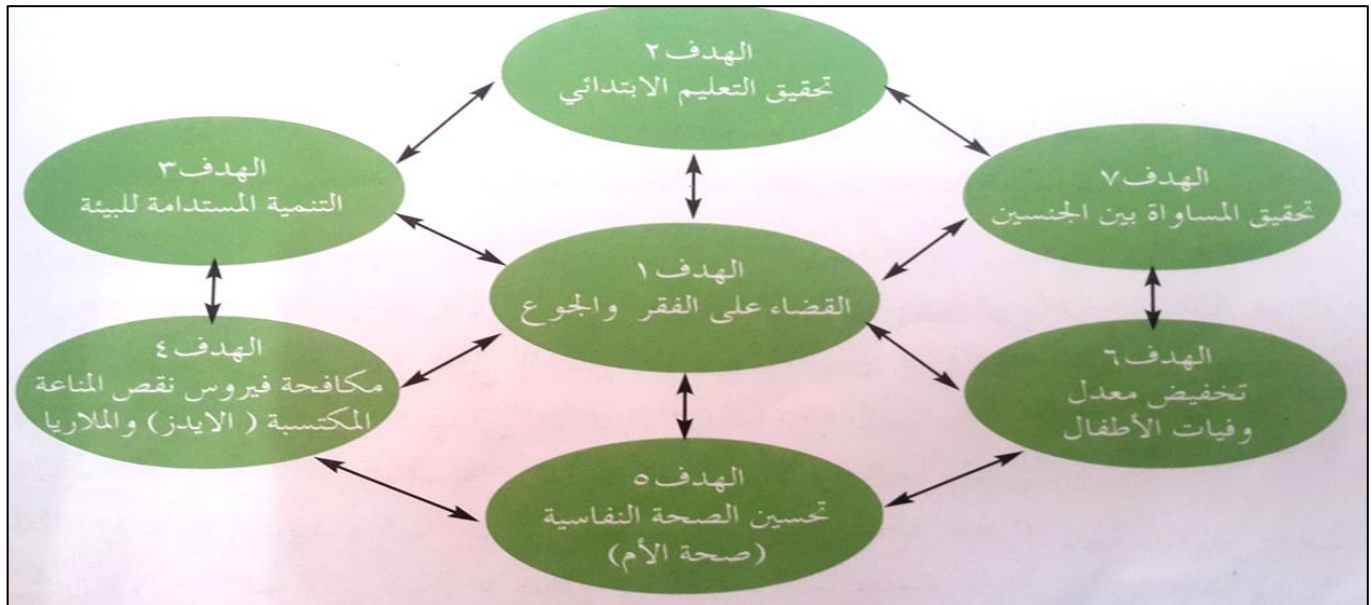
٢٠- عرف مفهوم التراث ؟

٢١- صنف الصور التالية حسب نوع التراث الثقافي :



..... ١ ٢ ٣

٢٢- ادرس الشكل الذي أمامك جيدا ثم أجب عن الأسئلة الآتية :



أ- متى تم إطلاق مشروع الأهداف الثلاثة؟

.....

ب- هل يمكن تطبيق أهداف الألفية الثلاثة على قارة أفريقيا عام ٢٠١٥ م

- نعم

- لا (اختر الإجابة الصحيحة)

- علل اجابتك

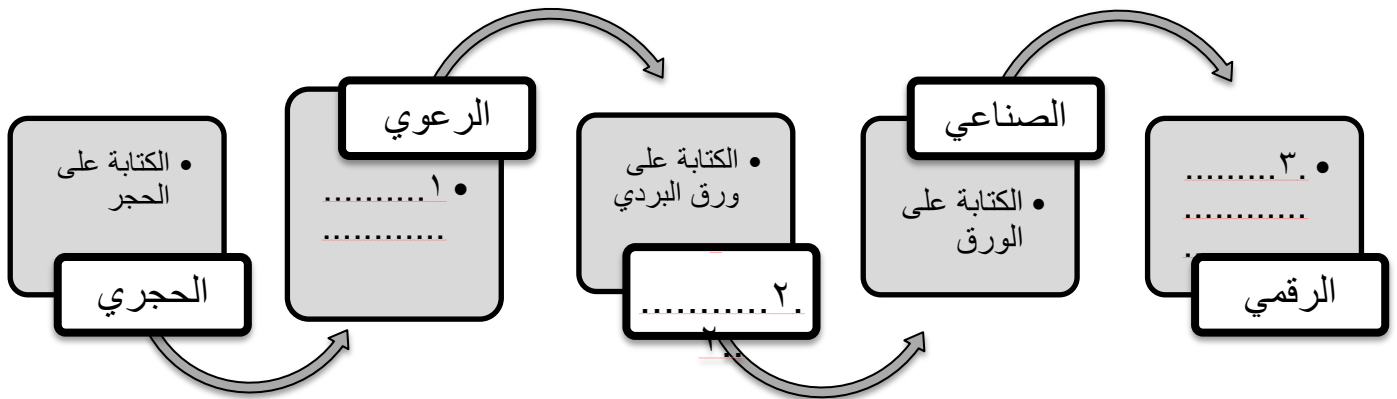
.....

ج- (من أهداف الألفية الثلاثة القضاء على الفقر و الجوع) وضح كيف يمكن الحصول على مؤشرات لهذا الهدف؟

.....

السؤال الرابع:

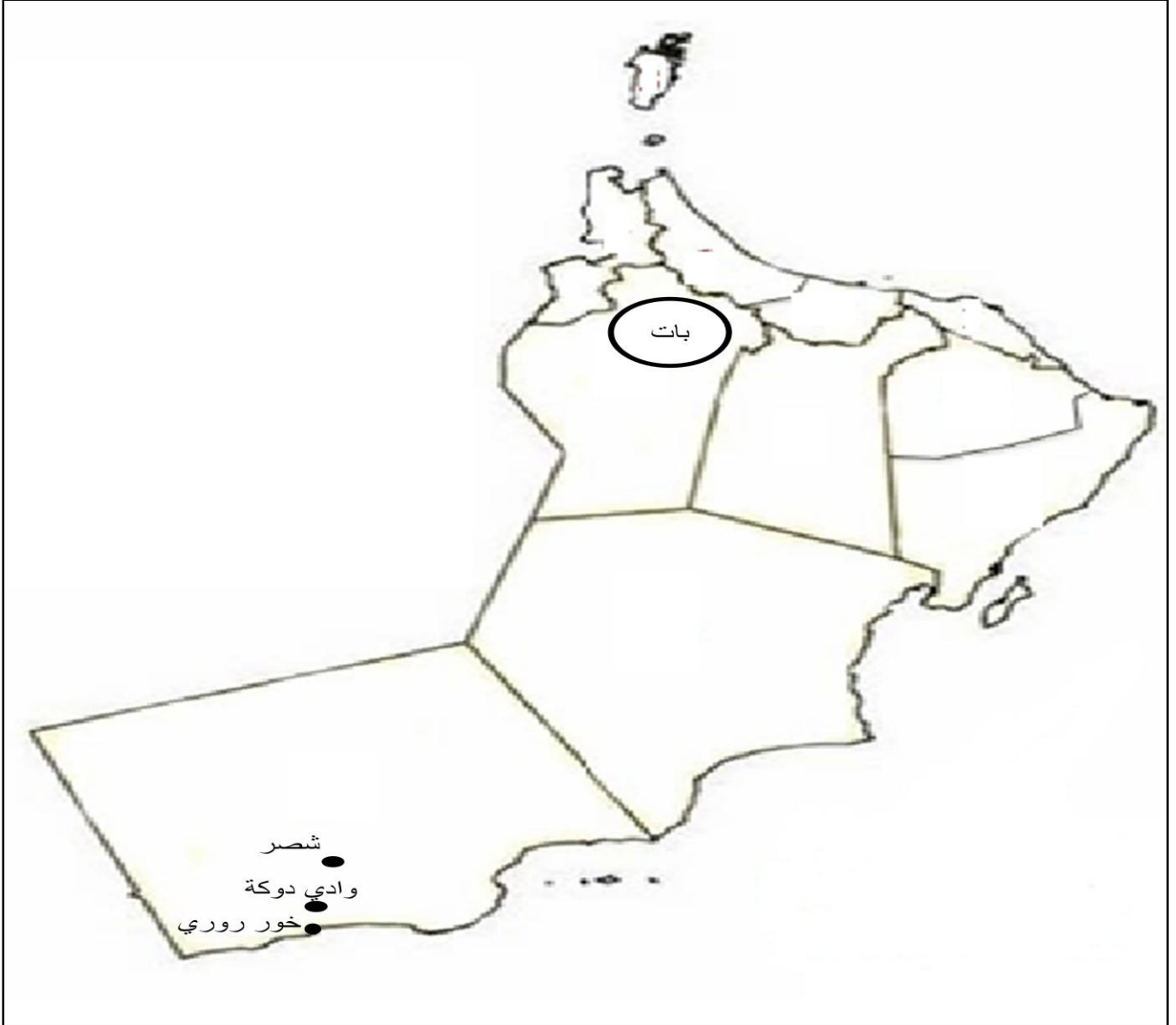
٢٣- تتبع مراحل تطور الكتابة عبر العصور في الشكل التالي:



٢٤- أكمل بيانات البطاقة التعريفية التالية حول مشروع طريق الحرير:

اسم المشروع	طريق الحرير
العام الذي ظهرت فيه فكرة المشروع	١-
اسم السفينة	٢-
من أهداف المشروع	٣-

٢٥- ادرس خريطة سلطنة عمان جيدا ثم أجب عن الأسئلة الآتية :



أ- قيم أهمية الموقع المحاط بدائرة كموقع في قائمة التراث العالمي ؟

.....

.....

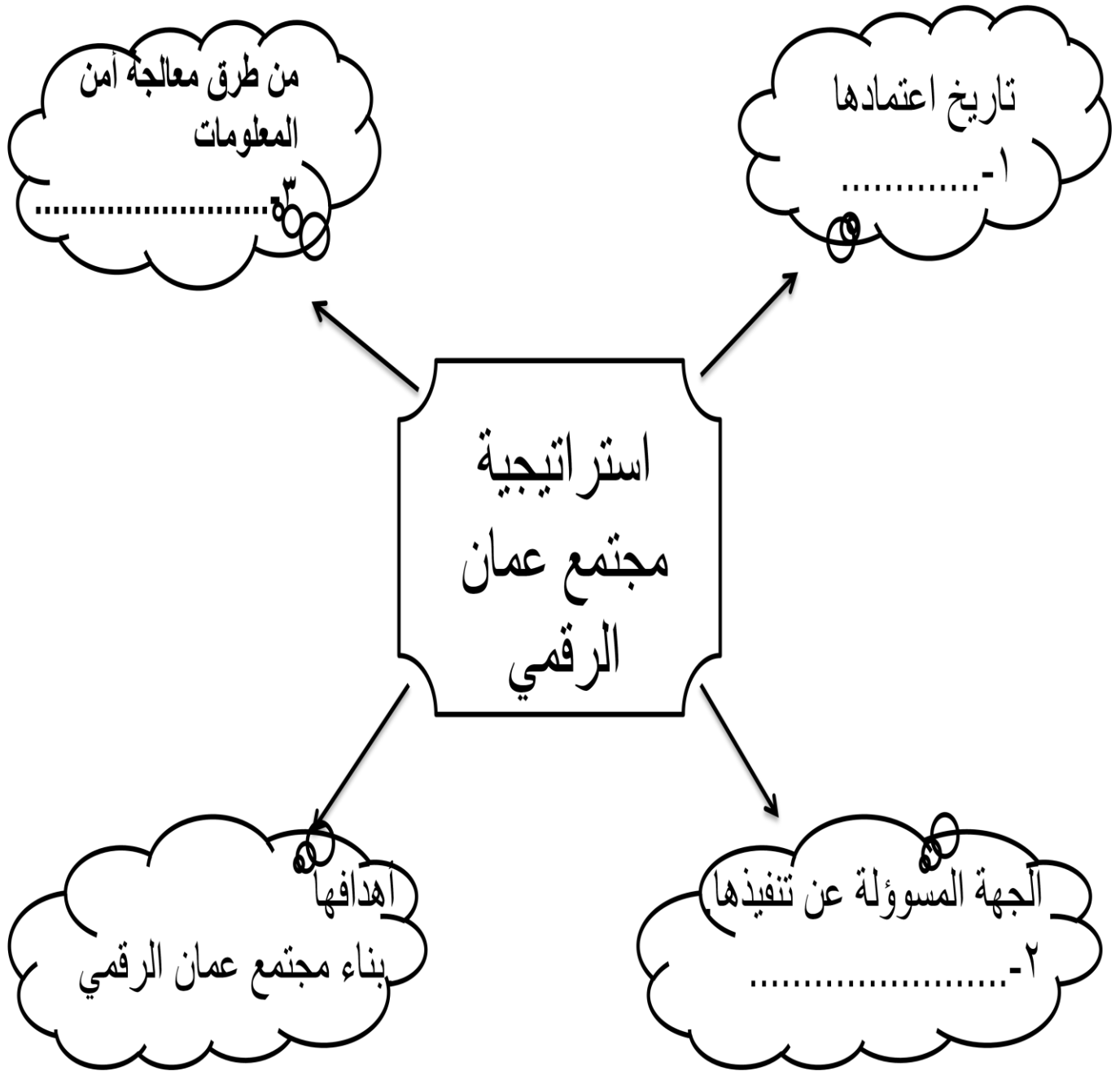
ب- حدد على الخريطة مركز تصدير اللبان برا بوضع دائرة عليه ؟

٢٦- (تمكن العمانيون من نقل ثقافتهم وإبداعاتهم في شرقي أفريقيا في الفترة خلال القرن ١٣ م وحتى القرن ١٩ م) وضح اجابتك .

.....

.....

٢٧- اكمل بيانات الخريطة الذهنية التالية :



تم بحمد الله